

基隆市東信國小106學年度第二學期一年級數學領域第一次成績評量試卷

一年__班 座號：_____ 姓名：_____ 得分：_____ 家長簽名：_____

一、填填看看：每格1分，共39分

1. 算算看看，填入正確的代號。

ㄅ $9+2$ ㄆ $7+4$ ㄑ $6+6$

ㄘ $8+3$ ㄋ $5+7$ ㄌ $5+8$

(1) 心算卡答案是有11的有()

(2) 心算卡答案是有12的有()

(3) 心算卡答案是有13的有()

2. 算算看看，填入正確的代號。

ㄅ $12-7$ ㄆ $15-9$ ㄑ $13-8$

ㄘ $11-7$ ㄋ $14-8$ ㄌ $16-8$

(1) 心算卡答案是有4的有()

(2) 心算卡答案是有5的有()

(3) 心算卡答案是有6的有()

3. 數一數，照數的順序填填看看。

(1) 2個一數。


34 36

(2) 5個一數。

70 80 90

4. 一枝棒棒糖賣5元，大雄有

50元，可以買幾枝棒棒糖？



買()枝

5. 下面的物體像哪一種立體形狀？

請填入代號。

ㄅ 圓柱 ㄆ 長方體 ㄑ 球體
ㄘ 正方體

①



()

②



()

③



()

④



()

⑤



()

⑥



()

⑦



()

⑧



()

⑨



()

6. 4個十和6個一合起來是()

，並記在數位表上。

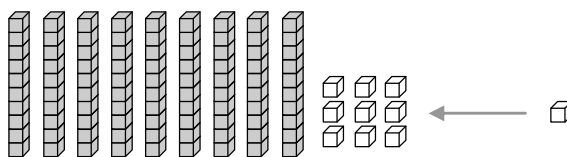
十位	個位

7. 0個一和6個十合起來是()

，並記在數位表上。

十位	個位

8. 99多1是()。



9.

十位	個位
5	4

可以分成

個十和

個一。

10.

十位	個位
	9

可以分成

個十和

個一。

11. 根據 61 到 90 各數在數字表上的位置，把下圖中缺少的數填上。

61	62	63	64	65	66	67	68	69	70
71	72	73	74	75	76	77	78	79	80
81	82	83	84	85	86	87	88	89	90

	64

二、圈圖看：每答 1 分，共 25 分

1. 把比 69 大的數圈起來。



2. 一包色紙 10 元，60 元可以買幾包色紙？



3. 小櫻有 2 個 10 元、2 個 5 元和 3 個 1 元，夠不夠買一杯 30 元的飲料？（夠，不夠）

4. 共有多少元？



(29 元， 34 元， 39 元)

5. 怎麼付錢才會剛剛好？圈出兩種不同的付錢方法。



30 元

第一種



第二種



6. 提示：


- 大明離鞦韆 25 步。
- 大明離溜滑梯 12 步。
- 大明離翹翹板最近。

(1) 大明離 (鞦韆， 溜滑梯) 的距離比較遠。

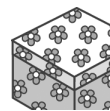
(2) 大明離翹翹板的距離可能是 (9，13，15) 步。

7. 哪些東西有平平的面？圈圖看。

①



②



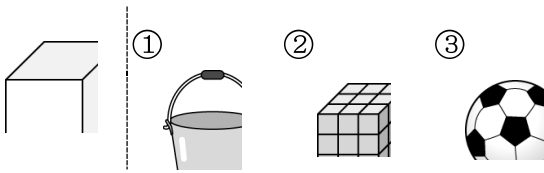
③



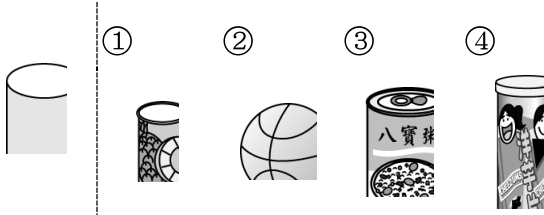
④



8. 把你看起來和立體積木很像的東西圈起來。



把你看起來和立體積木很像的東西都圈起來。



9. 箭頭指出它的面和哪一個圖形相同？圈圈看。

① ② ③ ④



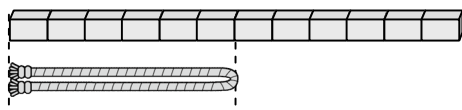
10. 佐助拍球拍了 78 下，小明拍球的比佐助少，小櫻拍球的比佐助多。

(1) 小明可能拍了多少下？圈看。(75, 78, 80)

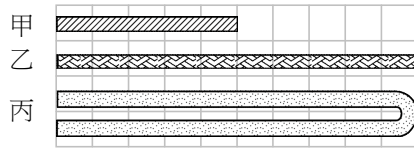
(2) 小櫻可能拍了多少下？圈看。(75, 78, 80)

三、看圖填填看：每答 1 分，共 13 分

1. 一條繩子對摺後和 6 條積木一樣長，繩子打開後和()條積木一樣長。

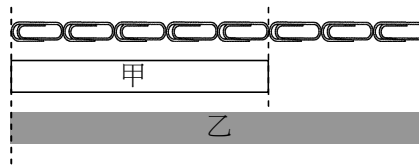


2.



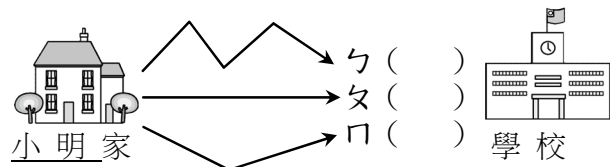
- (1) 甲綵帶有()格長。
(2) 乙綵帶有()格長。
(3) 丙綵帶有()格長。

3.

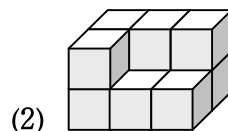
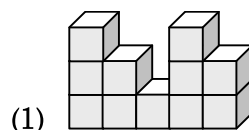


- (1) 甲綵帶有()個長。
(2) 乙綵帶有()個長。
(3) 比較長的是()綵帶，多了()個長。

4. 小明從家裡到學校的路線如下圖，請你依照最長到最短的順序，填入 1、2、3。



5. 要堆成下面的立體形體，需要幾個。



- (1) () 個。
(2) () 個。

四、做做看看：每題4分，共8分。

用(10)表示 ，用(5)表示 
用(1)表示 ，畫畫看看。

1. 一瓶鮮奶賣25元，如果是你，要怎麼付錢才會剛好？

2. 一個水壶78元，如果是你，要怎麼付錢才會剛好？

五、寫出算式做做看看：每題3分，共15分

1. 樹上原有18隻小鳥，飛走9隻後，剩下幾隻？

算式：

() 隻

2. 紅玫瑰和黃玫瑰共有14朵，其中紅玫瑰有7朵，黃玫瑰有幾朵？

算式：

有 () 朵

3. 一條紅色紙條和8個迴紋針一樣長，一條白色紙條和6個迴紋針一樣長，這兩條紙條接起來和幾個迴紋針一樣長？

算式：

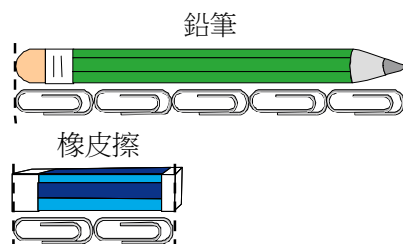
() 個

4. 鳴人昨天收集了8張貼紙，今天又收集了7張貼紙，共收集了幾張貼紙？

算式：

() 張

5. 鉛筆比橡皮擦多幾支迴紋針長？



算式：

() 支